



CONCURSO PÚBLICO

# ASSISTENTE TÉCNICO ADMINISTRATIVO

Data: 13/12/2009

Duração: 4 horas

Leia atentamente as instruções abaixo.

01- Você recebeu do fiscal o seguinte material:

a) Este caderno, com 60 (sessenta) questões da Prova Objetiva, sem repetição ou falha, assim distribuídas:

Língua Portuguesa	Legislação de Trânsito	Noções de Informática	Conhecimentos Específicos
01 a 10	11 a 20	21 a 30	31 a 60

b) Um **Cartão de Respostas** destinado às respostas das questões objetivas formuladas nas provas.

02- Verifique se este material está em ordem e se o seu nome e número de inscrição conferem com os que aparecem no **Cartão de Respostas**. Caso contrário, notifique **imediatamente** o fiscal.

03- Após a conferência, o candidato deverá assinar no espaço próprio do **Cartão de Respostas**, com caneta esferográfica de tinta na cor **azul** ou **preta**.

04- No **Cartão de Respostas**, a marcação da alternativa correta deve ser feita cobrindo a letra e preenchendo todo o espaço interno do quadrado, com caneta esferográfica de tinta na cor **azul** ou **preta**, de forma contínua e densa.

Exemplo:  A  B  C  D  E

05- Para cada uma das questões objetivas, são apresentadas 5 (cinco) alternativas classificadas com as letras (A, B, C, D e E), mas só uma responde adequadamente à questão proposta. Você só deve assinalar **uma alternativa**. A marcação em mais de uma alternativa anula a questão, mesmo que uma das respostas esteja correta.

06- Será eliminado da Seleção Pública o candidato que:

a) Utilizar, durante a realização das provas, telefone celular, bip, walkman, receptor/transmissor, gravador, agenda telefônica, notebook, calculadora, palmtop, relógio digital com receptor ou qualquer outro meio de comunicação.

b) Ausentar-se da sala, a qualquer tempo, portando o **Cartão de Respostas**.

**Observações:** Por motivo de segurança, o candidato só poderá retirar-se da sala após 1 (uma) hora a partir do início da prova.

O candidato que optar por se retirar sem levar seu Caderno de Questões não poderá copiar sua marcação de respostas, em qualquer hipótese ou meio. O descumprimento dessa determinação será registrado em ata, para julgamento posterior, podendo acarretar a eliminação do candidato.

Somente faltando 1 hora para o término da prova, o candidato poderá retirar-se levando o seu Caderno de Questões.

07- Reserve os 30 (trinta) minutos finais para marcar seu **Cartão de Respostas**. Os rascunhos e as marcações assinaladas no Caderno de Questões não serão levados em conta.

**LÍNGUA PORTUGUESA**

Leia o texto a seguir e responda às questões de nº 01 a 10.

**ALFABETIZAR O TRÂNSITO**

Semana passada, três jovens americanos do estado da Flórida foram condenados a 15 anos de prisão, cada um, acusados de homicídio. Eles roubaram placas de sinalização das ruas da cidade, principalmente as que diziam *Pare*. Foram responsabilizados pelos inúmeros acidentes que aconteceram em seguida, incluindo um com três vítimas fatais. Três jovens como eles.

O carioca não tem o hábito de ler placas de sinalização. Muito menos de segui-las. Como o brasileiro em geral lê pouco ou quase nada, não é de se espantar que isso se reflita no comportamento no trânsito. A falta de leitura gera ignorância e produz esperteza. No trânsito é igual. Não ler as placas produz um motorista ignorante, irresponsável, desinformado, egoísta e esperto. A sua linguagem é essa. Assim ele sobrevive. Mas a noção de sobrevivência do motorista esperto é, naturalmente, individualista. Não passa pela noção sofisticada do comportamento coletivo, que talvez seja hábito de um povo que lê.

Ler o sinal vermelho e entender o que ele diz, seja dirigindo o seu carro, pilotando a sua moto, pedalando a sua bicicleta ou caminhando com os próprios pés, é um passo definitivo no caminho da civilização. É consequência imediata do aprender a ler geral, do conhecimento adquirido, da capacidade de refletir, raciocinar, concluir e com isso talvez até ajudar a transformar a realidade para melhor. Ler os símbolos da cidade e entendê-los é como ler um livro e aprender sobre outras pessoas, outros mundos, outras formas de pensamentos e concluir que você também é alguém, que tem o seu lugar e que pensa. Um povo que sabe ler não avança sinal. Um povo que sabe ler não põe em risco o direito fundamental de cada cidadão, ele incluído, que é o de ir e vir. Um povo que sabe ler sabe entender, sobretudo, o que vê no rosto de quem está a seu lado.

É necessário alfabetizar o motorista carioca. Ensiná-lo a ler com os olhos e escrever com a direção, para concluir que fazemos parte de um mesmo texto, uma mesma história que nós mesmos estamos escrevendo com as nossas pernas, com os nossos passos e os caminhos que conseguimos traçar sem que o destino ou um motorista ignorante nos atropelie.

(Miguel Paiva, O Globo, 27 de junho de 1997, com adaptações)

01. Observa-se o uso figurado da linguagem na expressão:

- A) "Alfabetizar o trânsito" (*título*)
- B) "condenados a 15 anos de prisão" (*l. 2*)
- C) "roubaram placas de sinalização" (*l. 3*)
- D) "inúmeros acidentes" (*l. 5*)
- E) "A falta de leitura" (*l. 10*)

02. De acordo com o contexto, direito "de ir e vir" (*l. 28*) pode ser traduzido por liberdade de:

- A) viajar para o exterior
- B) locomover-se
- C) decidir para onde viajar
- D) emigrar
- E) imigrar

03. "É necessário alfabetizar o trânsito" - a expressão em destaque tem emprego correto quanto à concordância na frase:

- A) É necessário milhões de anos-luz para se entender questão tão delicada.
- B) É necessário a intervenção das autoridades para resolver o problema.
- C) É necessário a presença de guardas para coibir os abusos.
- D) É necessário paciência para lidar com os maus motoristas.
- E) É necessário nossa participação na resolução dos problemas da cidade.

04. No texto, observa-se o recurso expressivo da ironia no emprego da expressão:

- A) "inúmeros acidentes" (*l. 5*)
- B) "vítimas fatais" (*l. 6*)
- C) "noção sofisticada" (*l. 15*)
- D) "comportamento coletivo" (*l. 15*)
- E) "passo definitivo" (*l. 19*)

05. A 1ª oração do 2º período estabelece, com o 1º período do texto, uma relação de:

- A) conformidade
- B) tempo
- C) causa
- D) condição
- E) conclusão

06. No segmento "Eles roubaram placas de sinalização das ruas da cidade." (*l. 3/4*), substituindo-se a expressão em destaque por um pronome, resulta:

- A) Eles roubaram-as das ruas da cidade.
- B) Eles a roubaram das ruas da cidade.
- C) Eles lhes roubaram das ruas da cidade.
- D) Eles roubaram-nas das ruas da cidade.
- E) Eles roubaram-lhes das ruas da cidade.

07. "O carioca não tem o hábito de ler as placas de sinalização" (*l. 7*) – essa frase pode ser alterada, substituindo-se a expressão sublinhada pelo verbo custar, segundo a norma culta, do seguinte modo:

- A) O carioca custa a ler as placas de sinalização.
- B) As placas de sinalização custam a serem lidas pelos cariocas.
- C) Ao carioca custam ler as placas de sinalização.
- D) Ler as placas de sinalização custam ao carioca.
- E) Custa ao carioca ler as placas de sinalização.

08. Constitui recurso de coesão o emprego da expressão sublinhada em:

- A) "Eles roubaram placas de sinalização..." (*l. 3*)
- B) "O carioca não tem o hábito..." (*l. 7*)
- C) "Muito menos de segui-las." (*l. 7/8*)
- D) "Como o brasileiro em geral..." (*l. 8*)
- E) "Não ler as placas..." (*l. 11*)

Leia os segmentos a seguir.

"Três jovens como eles." (*l. 6*) "Como o brasileiro em geral lê pouco..." (*l. 8*) "Ler os símbolos da cidade e entendê-los é como ler um livro..." (*l. 22/23*)

09. A conjunção sublinhada nos segmentos acima tem valor semântico, respectivamente, de:

- A) conformidade / comparação / causa
- B) causa / conformidade / comparação
- C) comparação / causa / conformidade
- D) causa / comparação / conformidade
- E) comparação / causa / comparação

10. "Mas a noção de sobrevivência do motorista..." (*l. 13/14*) – A conjunção em destaque poderia ser corretamente substituída, sem prejuízo semântico, por:

- A) Portanto
- B) Logo
- C) Embora
- D) Conquanto
- E) Entretanto

## LEGISLAÇÃO DE TRÂNSITO

11. A Resolução CONTRAN nº 149/2003, em seu artigo 2º, trata da lavratura do Auto de Infração de Trânsito. Dentre outras determinações, estabelece que a Auto de Infração valerá como Notificação da Autuação, quando, por exemplo, a assinatura do condutor:

- A) não for colhida no ato de autuação, e a infração for de responsabilidade do proprietário do veículo
- B) for colhida no ato de autuação, e a infração for de responsabilidade do condutor
- C) for colhida no ato de autuação, e a infração for de responsabilidade do proprietário e este não estiver conduzindo o veículo
- D) não for colhida no ato de autuação, e a infração for de responsabilidade do condutor
- E) for colhida no ato de autuação, seja ele o proprietário do veículo ou não, e a infração de qualquer tipo

12. De acordo com a Resolução CONTRAN Nº 233/2007, a nomeação dos integrantes das Juntas Administrativas de Recursos de Infrações – JARI, que funcionam junto aos órgãos e entidades executivos de trânsito ou rodoviários estaduais e municipais, facultada a delegação, é uma competência do:

- A) Secretário Executivo do Ministério dos Transportes
- B) Diretor do Departamento de Trânsito local
- C) Secretário Estadual ou Municipal de Transportes
- D) Chefe do Poder Executivo Estadual ou Municipal
- E) Presidente do Conselho Nacional de Trânsito

13. Considere as etapas listadas abaixo:

- I- Exame de aptidão física e mental
- II- Acompanhamento social
- III- Avaliação psicológica
- IV- Exame escrito sobre legislação de trânsito
- V- Curso prático de mecânica básica
- VI- Exame de direção veicular, realizado na via pública

O artigo 3º da Resolução CONTRAN nº 300/2008 determina que o condutor condenado por delito de trânsito deverá ser submetido e aprovado apenas nas seguintes etapas:

- A) I – III – IV – VI
- B) I – II – IV
- C) II – III – IV – V – VI
- D) III – V – VI
- E) I – II – IV – VI

14. O condutor de um automóvel cometeu uma infração por excesso de velocidade em uma rodovia não sinalizada. De acordo com o artigo 218 do CTB, se esse condutor recebeu penalidade referente a uma infração de natureza gravíssima, pode-se afirmar que o veículo estava em velocidade necessariamente:

- A) acima de 180 km/h
- B) entre 130 e 150 km/h
- C) acima de 165 km/h
- D) entre 110 e 140 km/h
- E) acima de 200 km/h

15. Considerando-se a gradação de categorias de habilitação apresentada no artigo 143 do CTB, a categoria C destina-se ao condutor de:

- A) veículo motorizado utilizado no transporte de passageiros, cuja lotação exceda a oito lugares, excluído o do motorista
- B) veículo motorizado utilizado em transporte de carga, cujo peso bruto total exceda a três mil e quinhentos quilogramas
- C) veículo motorizado cujo peso bruto total exceda a três mil e quinhentos quilogramas e cuja lotação não exceda a oito lugares
- D) veículo motorizado de duas ou três rodas, com ou sem carro lateral
- E) combinação de veículos cuja unidade acoplada tenha seis mil quilogramas ou mais de peso bruto total


16. Considere as infrações de trânsito descritas abaixo.

- I- Dirigir veículo com validade da Carteira Nacional de Habilitação vencida há mais de trinta dias.
- II- Deixar de parar o veículo no acostamento à direita, para aguardar a oportunidade de cruzar a pista ou entrar à esquerda
- III- Estacionar o veículo em esquina, a menos de cinco metros do bordo do alinhamento da via transversal.
- IV- Transportar crianças em veículo automotor sem observância das normas de segurança especiais estabelecidas no CTB.
- V- Parar o veículo na pista de rolamento das estradas, das rodovias, das vias de trânsito rápido e das demais vias dotadas de acostamento

O CTB classifica como gravíssimas somente as infrações:

- A) II, III e IV
- B) I e IV
- C) II, III e V
- D) I, IV e V
- E) III e V

17. Dentre os Sinais de Regulamentação mostrados abaixo, aquele que passa ao condutor a mensagem de que "é proibido mudar de faixa ou pista de trânsito da esquerda para a direita" é:



18. A sinalização horizontal é feita por meio de linhas, marcações, símbolos e legendas, pintados sobre o pavimento das vias. A cor amarela é utilizada na sinalização horizontal, por exemplo, para:

- A) regular fluxos de sentidos opostos
- B) simbolizar pessoas portadoras de deficiência física
- C) regular faixas de travessia de pedestres
- D) regular fluxos de mesmo sentido
- E) proporcionar contraste entre a marca viária e o pavimento das ciclofaixas

19. Considere os procedimentos listados abaixo.

- I- Acender os faróis do veículo, utilizando luz baixa.
- II- Manter acesas apenas as luzes de posição.
- III- Alternar luz baixa e luz alta, de forma intermitente e por curto período de tempo.
- IV- Acender os faróis do veículo, utilizando luz alta, exceto ao cruzar com outro veículo ou ao segui-lo.
- V- Manter aceso o pisca-alerta.

De acordo com o artigo 40 do CTB, nos túneis providos de iluminação pública e nas vias não iluminadas, o condutor deve adotar, respectivamente, os seguintes procedimentos:

- A) I - V
- B) II - IV
- C) V - III
- D) I - IV
- E) II - III

ASSISTENTE TÉCNICO ADMINISTRATIVO

Considere a Resolução CONTRAN nº 66/1998, que institui tabela de distribuição de competência, fiscalização de trânsito, aplicação das medidas administrativas, penalidades cabíveis e arrecadação das multas aplicadas, e responda a questão de nº 20.

20. Analise as infrações listadas abaixo:

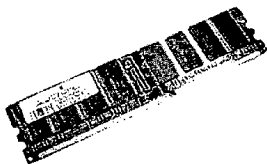
- I- Deixar de manter acesa a luz baixa, quando o veículo estiver em movimento, durante a noite.
- II- Confiar ou entregar a direção de veículo a pessoa que, mesmo habilitada, por seu estado físico ou psíquico, não estiver em condições de dirigi-lo com segurança.
- III- Usar buzina em locais e horários proibidos pela sinalização.
- IV- Conduzir o veículo com o lacre, a inscrição do chassi, o selo, a placa ou qualquer outro elemento de identificação do veículo violado ou falsificado.
- V- Transportar, em veículo destinado ao transporte de passageiros, carga excedente em desacordo com normas estabelecidas pelo CONTRAN.

As infrações contra as quais a aplicação de dispositivos do Código de Trânsito Brasileiro é de competência apenas do Estado são:

- A) I e IV
- B) II, III e V
- C) I, II e III
- D) III, IV e V
- E) II, IV e V

NOÇÕES DE INFORMÁTICA

21. A figura abaixo representa uma memória DDR2 utilizada nos microcomputadores atuais, que tem a importante função de realizar o armazenamento das instruções de softwares e programas submetidos à execução, além dos dados manipulados por eles.



As memórias DDR2 são enquadradas na categoria de hardware e possuem capacidades de armazenamento típicas, indicadas na alternativa:

- A) ROM / de 1 GB a 2 GB
- B) RAM / de 1 GB a 2 GB
- C) CACHE / de 1 MB a 2 MB
- D) RAM / de 80 GB a 500 GB
- E) ROM / de 80 M

22. O Windows XP disponibiliza a opção Pesquisar, que possibilita buscar arquivos no computador pelo nome ou extensão, ou fazer uma varredura em todos os arquivos de imagem, música e vídeo que existem na máquina. Utilizando essa opção, considere duas situações em que se deseja buscar todos os arquivos:

- I- Com extensão PDF.
- II- Comecem com a letra D e tenham qualquer extensão.

Nessas duas situações, devem-se digitar os comandos de pesquisa indicados, respectivamente, em:

- A) %.PDF e D%.%
- B) &.PDF e D&.&
- C) \$.PDF e D\$.\$
- D) ?.PDF e D??.?
- E) \*.PDF e D\*.\*

23. Enquanto os sistemas **Windows** disponibilizam a interface gráfica conhecida como **GUI** por meio do **Windows Explorer**, o **Linux** possibilita a utilização de outras, que funcionam de forma semelhante. Com esse foco, similares ao **Windows Explorer**, são interfaces gráficas para **Linux**:

- A) GNOME e FIREFOX
- B) SAFARI e MOZILLA
- C) FIREFOX e SAFARI
- D) KDE e GNOME
- E) MOZILLA e KDE

24. No **Word 2007 BR**, a execução do atalho de teclado **Ctrl + E** e da tecla de função **F7** possuem, respectivamente, os seguintes significados:

- A) recortar e inserir tabela
- B) recortar e visualizar texto a ser impresso
- C) recortar e verificar ortografia e gramática
- D) centralizar e visualizar texto a ser impresso
- E) centralizar e verificar ortografia e gramática

25. Um usuário do **Excel 2007 BR** criou a planilha abaixo.

PLANILHA1 (Modo de Competitividade)						
	A	B	C	D	E	F
1	DETRAN - RIO DE JANEIRO					
2	MATRÍCULA	NOME	PRODUÇÃO 2009			
3			AGO	SETE	OUT	MÉDIA
4	D304987	CÉLIO	181	203	202	195,3
5	D325638	DÉBORA	149	190	209	182,7
6	D874209	JUSSARA	189	187	161	179,0

Nessa elaboração,

- I- Inseriu na célula **F4** uma função que determinou a maior produção dentre os três meses indicados, referente ao funcionário **CÉLIO**.
- II- Na célula **G5**, inseriu uma função para determinar a média aritmética dentre os três meses indicados, referente à funcionária **DÉBORA**, com arredondamento para uma casa decimal.
- III- As fórmulas inseridas nas células **F5**, **F6**, **G4** e **G6** foram determinadas por meio dos comandos copiar e colar a partir de **F4** e **G5**.

Nessas condições, as funções inseridas às células **F5** e **G6** são, respectivamente:

- A) =MÁXIMO(C5;E5) e =ARRED(MÉDIA(C6;E6);1)
- B) =MÁXIMO(C5;E5;1) e =ARRED(MÉDIA(C6;E6))
- C) =MÁXIMO(C5;E5) e =ARRED(MÉDIA(C6;E6);1)
- D) =MAIOR(C5;E5) e =ARRED(MÉDIA(C6;E6);1)
- E) =MAIOR(C5;E5) e =ARRED(MÉDIA(C6;E6);1)

26. A figura abaixo mostra a barra de menu do **Powerpoint 2007 BR**, com destaque para a opção **Apresentação de Slides**.



Para escolher um determinado tema para a apresentação que está sendo elaborada, deve-se atuar na janela




que é mostrada na tela, quando se pressiona, por meio do apontador do mouse, a seguinte opção na barra de menu:






- A) Design
- B) Exibição
- C) Animações
- D) Inserir
- E) Início

27. Quando um usuário abre um documento para iniciar um trabalho de digitação no *Writer* do pacote *BrOffice.org 3.0*, no que diz respeito ao estilo e *layout* da página, o software oferece duas opções à *orientação* do documento, que são:


- A) A4 e Carta
- B) impressão e web
- C) retrato e paisagem
- D) normal e rascunho
- E) horizontal e vertical

28. Numa planilha montada no *Calc* do pacote *BrOffice.org 3.0*, um funcionário do DETRAN digitou os números 2, 3 e 4 nas células A2, B2 e C2. A inclusão da expressão `=SOMA(A2:C2)` em D2

foi realizada a partir do acionamento de . Essa mesma ação poderia ser executada por acionamento direto, por meio do ponteiro do mouse, no seguinte símbolo:

- A) 
- B) 
- C) 
- D) 
- E) 

29. A figura abaixo exemplifica o uso do *browser Internet Explorer* e mostra a página inicial do site do *DETRAN RJ*, com destaque para uma das barras existentes no software.



A barra indicada por **1** é denominada:

- A) status
- B) segurança
- C) acesso rápido
- D) progresso de carga
- E) compatibilidade web



30. A figura ilustra um dispositivo de proteção, utilizado nas configurações dos microcomputadores, cuja função principal é manter a voltagem de alimentação fornecida pelas concessionárias de energia em níveis aceitáveis, próximos ao valor nominal de operação, garantindo a segurança do microcomputador e evitando danos ao equipamento de informática. Esse dispositivo de proteção é conhecido como:

- A) Filtro de linha
- B) Filtro de transientes
- C) Estabilizador de tensão
- D) Estabilizador de corrente
- E) Transformador de potência

### CONHECIMENTOS ESPECÍFICOS

31. A Certidão é uma declaração feita por escrito, que tem por objetivo comprovar Ato ou Assentamento constante de processo, livro ou documento que se encontre em repartições públicas. Quanto ao conteúdo, ela pode ser:

- A) formal ou informal
- B) transcrição integral ou resumida
- C) simples ou complexa
- D) informativa ou descritiva
- E) pública ou particular

32. Decreto é ato administrativo de competência exclusiva de autoridades, tais como:

- A) chefes de gabinete
- B) desembargadores
- C) juizes
- D) deputados
- E) governadores

Leia atentamente o Atestado apresentado abaixo.

#### ATESTADO

Atesto, para os devidos fins, que Maria de Souza, professora de Classe de Alfabetização, matrícula nº 12345-6, lotada nesta unidade escolar, teve três faltas abonadas no período de 1º de agosto a 30 de setembro do corrente ano.

Lourdes Moura  
Diretora de Escola

Rio de Janeiro, 10 de outubro de 2009.

33. Nesse Atestado, pode-se identificar o seguinte erro:

- A) O título não deveria ser grafado em letras maiúsculas.
- B) O título deveria estar à esquerda do papel.
- C) O texto deveria ter, pelo menos, dois parágrafos.
- D) A data deveria preceder a assinatura.
- E) Os números deveriam, obrigatoriamente, ser escritos por extenso

34. O texto de uma Ata deve ser escrito sem parágrafos, ocupando inteiramente as linhas, sem espaços em branco ou rasuras, porque:

- A) A Ata é um documento jurídico.
- B) A Ata é um resumo fiel de fatos, ocorrências e decisões.
- C) Quem redige a Ata não pode cometer erros.
- D) A Ata é lavrada em livro próprio e, assim, economizam-se páginas.
- E) Esse cuidado evita fraudes.

35. Os meses são abreviados com as suas três letras iniciais. O único mês que não se abrevia é:

- A) janeiro
- B) abril
- C) maio
- D) junho
- E) julho

36. No endereçamento do envelope de correspondência que deve seguir pelos Correios, uma recomendação correta é:

- A) Coloca-se sempre, depois do nome da cidade, a sigla do Estado.
- B) Usa-se Caixa Postal e endereço completo ao mesmo tempo.
- C) Deve-se sublinhar o endereço.
- D) Deve-se escrever a palavra CEP antes dos algarismos.
- E) Os números do CEP devem ser sublinhados.

37. Ao endereçar uma correspondência para o Estado de Roraima, a sigla correta a ser colocada no envelope postal é:

- A) RA
- B) RM
- C) RO
- D) RR
- E) RI

ASSISTENTE TÉCNICO ADMINISTRATIVO

38. Muitas vezes, ao comprar algum produto em estabelecimento comercial, a nota fiscal vem com um nome diferente daquele que consta no estabelecimento – Razão Social.

Nos procedimentos de arquivamento, esses dois nomes recebem a denominação de referências cruzadas.

A expressão "referências cruzadas" está diretamente relacionada às seguintes palavras e/ou expressões:

- A) remissão e ligações diretas
- B) remissão e veja também
- C) denominação e acrescente-se
- D) denominação e veja também
- E) acrescente-se e ligações diretas

39. O inventário físico de materiais a portas fechadas é realizado da seguinte maneira: paralisa-se o expediente e procede-se à contagem física de materiais.

Segundo Castiglioni, para efeito de balanço contábil, esse tipo de inventário é chamado de:

- A) balanço secreto
- B) balanço eventual
- C) inventário fiscal
- D) inventário formal
- E) balancete

40. De acordo com Castiglioni, relacione os tipos de benefícios oferecidos por uma empresa a seus empregados, apresentados na coluna da esquerda, aos seus respectivos exemplos, listados na coluna da direita.

- 1. benefícios oferecidos no exercício do cargo ( ) refeitório, lazer, instrução
- 2. benefícios oferecidos dentro da empresa, independentemente do exercício do cargo ( ) gratificações, transporte, prêmios de produtividade
- 3. benefícios oferecidos fora da empresa ( ) assistência médica e odontológica extensiva a familiares

A sequência correta é:

- A) 3, 2, 1
- B) 3, 1, 2
- C) 2, 1, 3
- D) 2, 3, 1
- E) 1, 3, 2

41. A sigla CIPA está relacionada a uma comissão interna de:

- A) Processo de Admissão
- B) Programa de Autogestão
- C) Prevenção de Acidentes
- D) Participação Administrativa
- E) Pagamentos Antecipados

As questões de nº 42 e 43 têm como base o Decreto nº 2479, Regulamento do Estatuto dos Funcionários Públicos Civis do Poder Executivo do Estado do Rio de Janeiro.

42. Sobre o servidor contratado que aceitar nomeação para cargo em comissão da estrutura da Administração Direta ou Autarquias, o Art. 24 estabelece que:

- A) Seu regime previdenciário será mantido na CLT.
- B) A retribuição pelo exercício do cargo em comissão será acrescida uma gratificação de 70% (setenta por cento) de seu salário como contratado.
- C) Seu contrato de trabalho será mantido enquanto durar o exercício do cargo em comissão.
- D) O afastamento em virtude da condição temporária do exercício do cargo em comissão não precisará constar dos registros de sua carteira profissional
- E) Exonerado do cargo em comissão, o servidor reverterá imediatamente ao exercício do contrato.

43. O Artigo 68 estabelece que o funcionário entrará em exercício no prazo de 30 (trinta) dias contados da data da publicação de qualquer dos atos listados abaixo, exceto:

- A) remoção para outra unidade administrativa
- B) nomeação em cargo efetivo
- C) provimento em função gratificada
- D) transferência de funcionário estável
- E) aproveitamento em cargo de natureza e vencimento compatível com o do anteriormente ocupado

As questões de nº 44 e 45 têm por base a Lei nº 4.781, que dispõe sobre o Plano de Cargos e Vencimentos do Departamento de Trânsito do Estado do Rio de Janeiro – DETRAN RJ, e dá outras providências.

44. De acordo com o Artigo 50, a retribuição por participação em atividades de Licenciamento de Veículos, de participação em Comissão de Exames de Direção Veicular, em suas partes teórica e prática, em Operações Especiais de Fiscalização, tem como característica:

- A) Constitui vantagem permanente para o servidor.
- B) Fica excluída da base de cálculo do adicional de tempo de serviço.
- C) Poderá ser percebida pelo prazo máximo de 3 (três) meses a cada ano.
- D) Poderá ser percebida por ocupantes de cargo em comissão, desde que habilitados.
- E) Terá valor proporcional ao vencimento do servidor.

45. De acordo com o Artigo 7º, o concurso público para cargos efetivos será realizado em três fases: Provas ou Provas e Títulos, aprovação em curso promovido pelo DETRAN RJ (para cargos cuja complexidade assim exija) e estágio experimental.

Durante a realização do Curso e do estágio experimental, o candidato receberá retribuição em valor correspondente, respectivamente a:

- A) 20% e 50% do vencimento inicial do cargo objeto do concurso
- B) 30% e 70% do vencimento inicial do cargo objeto do concurso
- C) 30% e 80% do vencimento inicial do cargo objeto do concurso
- D) 40% e 80% do vencimento inicial do cargo objeto do concurso
- E) 40% e 90% do vencimento inicial do cargo objeto do concurso

46. O princípio orçamentário que determina que a lei orçamentária anual não conterá dispositivo estranho à previsão da receita e à fixação da despesa, não se incluindo na proibição a autorização para a abertura de créditos suplementares e contratação de operações de créditos denomina-se:

- A) unidade
- B) exclusividade
- C) universalidade
- D) especificação
- E) clareza

47. De acordo com a norma vigente, o período de tempo durante o qual o Orçamento Público é executado, denomina-se:

- A) execução financeira
- B) ciclo orçamentário
- C) exercício social
- D) exercício financeiro
- E) ciclo operacional

48. De acordo com as normas vigentes as despesas públicas classificam-se nas seguintes categorias econômicas:

- A) financeiras e patrimoniais
- B) correntes e industriais
- C) correntes e de capital
- D) orçamentárias e extraorçamentárias
- E) derivadas e ordinárias

ASSISTENTE TÉCNICO ADMINISTRATIVO

49. De acordo com a Lei n.º 4.320/64, a demonstração contábil que evidencia o resultado patrimonial apurado no final do exercício de um ente público é aquela denominada:
- A) Balanço Financeiro
  - B) Balanço Patrimonial
  - C) Balanço Orçamentário
  - D) Demonstração do Resultado do Exercício
  - E) Demonstração das Variações Patrimoniais
50. Com base nos aspectos doutrinários e legais acerca da despesa pública, a afirmativa correta é:
- A) As despesas no orçamento público são classificadas por categorias sociais.
  - B) O custeio da máquina administrativa será classificado como uma despesa de capital.
  - C) As inversões financeiras são classificadas como despesas de capital.
  - D) Os investimentos realizados são classificados como despesas correntes.
  - E) O pagamento do serviço da dívida é classificado como despesas correntes
51. O tipo de crédito adicional destinado a reforçar a dotação orçamentária consignada na lei orçamentária são os:
- A) especiais
  - B) suplementares
  - C) complementares
  - D) extraordinários
  - E) extraorçamentários
52. Numere os elementos da coluna da direita, conforme as categorias das Receitas e Despesas dispostas na coluna da esquerda:
- |                        |     |                               |
|------------------------|-----|-------------------------------|
| 1- Despesas Correntes  | ( ) | Obras e Instalações           |
| 2- Receitas Correntes  | ( ) | Operações de crédito internas |
| 3- Despesas de Capital | ( ) | Impostos                      |
| 4- Receitas de Capital | ( ) | Manutenção de bens móveis     |
- A sequência correta é:
- A) 1 - 4 - 3 - 2
  - B) 4 - 2 - 1 - 3
  - C) 3 - 2 - 4 - 1
  - D) 3 - 4 - 2 - 1
  - E) 1 - 2 - 3 - 4
53. Na contabilidade aplicada ao setor público, as contas pertencentes ao sistema financeiro têm como finalidade, dentre outras, registrar:
- A) os atos necessários para controle da execução orçamentária
  - B) os valores que direta ou indiretamente possam vir a afetar o patrimônio
  - C) a fixação e a execução das despesas estabelecidas no orçamento
  - D) as estimativas de receitas no início de cada exercício, com base na lei do orçamento
  - E) os ingressos e os desembolsos financeiros, seja o orçamentário ou o extraorçamentário
54. Quando um órgão da administração pública tiver necessidade de realizar uma determinada despesa, que a princípio não pode determinar o seu valor exato, deverá, por ocasião do comprometimento do orçamento, emitir um empenho do tipo:
- A) global
  - B) pré-empenho
  - C) ordinário
  - D) estimativo
  - E) a classificar
55. As dívidas de longo prazo, que dependam de autorização legislativa para sua amortização e resgate, deverão ser demonstradas no balanço patrimonial, conforme preconizado pela Lei 4.320/64, no seguinte grupo:
- A) passivo compensado
  - B) passivo permanente
  - C) passivo financeiro
  - D) passivo real a descoberto
  - E) passivo real
56. Conforme estabelecido na Constituição Federal, a lei orçamentária engloba três esferas de orçamentos. Aquela que demonstrará as ações governamentais dos Poderes Legislativo, Executivo e Judiciário, seus fundos, órgãos e entidades da administração direta e indireta é denominado Orçamento:
- A) Fiscal
  - B) da Seguridade Social
  - C) de Investimento das Empresas Estatais
  - D) Plurianual de Investimentos
  - E) de Desempenho e Realizações
57. Conforme estabelecido na legislação vigente, pertencem ao exercício financeiro:
- A) as receitas lançadas e as despesas empenhadas
  - B) as receitas previstas e as despesas pagas
  - C) as receitas arrecadadas e as despesas nele legalmente empenhadas
  - D) as receitas fixadas e as despesas previstas
  - E) as receitas estimadas e as despesas realizadas
58. Com base na estrutura dos sistemas de contas da contabilidade pública, o controle dos comprometimentos dos créditos distribuídos no orçamento público será efetuado no seguinte sistema:
- A) compensado
  - B) financeiro
  - C) patrimonial
  - D) orçamentário
  - E) de custos
59. Conforme estabelecido nas normas vigentes, é classificado como receita extraorçamentária o seguinte item:
- A) aluguéis de imóveis
  - B) empréstimos obtidos
  - C) impostos arrecadados
  - D) dividendos recebidos
  - E) adiantamento de receitas orçamentárias
60. Com base na estrutura do Balanço Patrimonial preconizada na Lei 4.320/64, ocorre Passivo Real a Descoberto quando:
- A) o ativo compensado for menor que o passivo compensado
  - B) o passivo permanente for maior que o ativo permanente
  - C) o passivo real for maior que o ativo real
  - D) o ativo financeiro for menor que o passivo permanente
  - E) o somatório do ativo financeiro com o ativo permanente for menor que o passivo compensado