



CONCURSO PÚBLICO

ASSISTENTE TÉCNICO DE TRÂNSITO

Data: 13/12/2009
Duração: 4 horas

Leia atentamente as instruções abaixo.

01- Você recebeu do fiscal o seguinte material:

a) Este caderno, com 60 (sessenta) questões da Prova Objetiva, sem repetição ou falha, assim distribuídas:

Língua Portuguesa	Legislação de Trânsito	Noções de Informática	Conhecimentos Específicos
01 a 10	11 a 20	21 a 30	31 a 60

b) Um **Cartão de Respostas** destinado às respostas das questões objetivas formuladas nas provas.

02- Verifique se este material está em ordem e se o seu nome e número de inscrição conferem com os que aparecem no **Cartão de Respostas**. Caso contrário, notifique **imediatamente** o fiscal.

03- Após a conferência, o candidato deverá assinar no espaço próprio do **Cartão de Respostas**, com caneta esferográfica de tinta na cor azul ou preta.

04- No **Cartão de Respostas**, a marcação da alternativa correta deve ser feita cobrindo a letra e preenchendo todo o espaço interno do quadrado, com caneta esferográfica de tinta na cor azul ou preta, de forma contínua e densa.

Exemplo: A B C D E

05- Para cada uma das questões objetivas, são apresentadas 5 (cinco) alternativas classificadas com as letras (A, B, C, D e E), mas só uma responde adequadamente à questão proposta. Você só deve assinalar **uma alternativa**. A marcação em mais de uma alternativa anula a questão, mesmo que uma das respostas esteja correta.

06- Será eliminado da Seleção Pública o candidato que:

a) Utilizar, durante a realização das provas, telefone celular, bip, walkman, receptor/transmissor, gravador, agenda telefônica, notebook, calculadora, palmtop, relógio digital com receptor ou qualquer outro meio de comunicação.

b) Ausentar-se da sala, a qualquer tempo, portando o **Cartão de Respostas**.

Observações: Por motivo de segurança, o candidato só poderá retirar-se da sala após 1 (uma) hora a partir do início da prova.

O candidato que optar por se retirar sem levar seu Caderno de Questões não poderá copiar sua marcação de respostas, em qualquer hipótese ou meio. O descumprimento dessa determinação será registrado em ata, para julgamento posterior, podendo acarretar a eliminação do candidato.

Somente faltando 1 hora para o término da prova, o candidato poderá retirar-se levando o seu Caderno de Questões.

07- Reserve os 30 (trinta) minutos finais para marcar seu **Cartão de Respostas**. Os rascunhos e as marcações assinaladas no Caderno de Questões não serão levados em conta.

LÍNGUA PORTUGUESA

Leia o texto a seguir e responda às questões de nº 01 a 10.

ALFABETIZAR O TRÂNSITO

Semana passada, três jovens americanos do estado da Flórida foram condenados a 15 anos de prisão, cada um, acusados de homicídio. Eles roubaram placas de sinalização das ruas da cidade, principalmente as que diziam **Pare**. Foram responsabilizados pelos inúmeros acidentes que aconteceram em seguida, incluindo um com três vítimas fatais. Três jovens como eles.

O carioca não tem o hábito de ler placas de sinalização. Muito menos de segui-las. Como o brasileiro em geral lê pouco ou quase nada, não é de se espantar que isso se reflita no comportamento no trânsito. A falta de leitura gera ignorância e produz esperteza. No trânsito é igual. Não ler as placas produz um motorista ignorante, irresponsável, desinformado, egoísta e esperto. A sua linguagem é essa. Assim ele sobrevive. Mas a noção de sobrevivência do motorista esperto é, naturalmente, individualista. Não passa pela noção sofisticada do comportamento coletivo, que talvez seja hábito de um povo que lê.

Ler o sinal vermelho e entender o que ele diz, seja dirigindo o seu carro, pilotando a sua moto, pedalando a sua bicicleta ou caminhando com os próprios pés, é um passo definitivo no caminho da civilização. É consequência imediata do aprender a ler geral, do conhecimento adquirido, da capacidade de refletir, raciocinar, concluir e com isso talvez até ajudar a transformar a realidade para melhor. Ler os símbolos da cidade e entendê-los é como ler um livro e aprender sobre outras pessoas, outros mundos, outras formas de pensamentos e concluir que você também é alguém, que tem o seu lugar e que pensa. Um povo que sabe ler não avança sinal. Um povo que sabe ler não põe em risco o direito fundamental de cada cidadão, ele incluído, que é o de ir e vir. Um povo que sabe ler sabe entender, sobretudo, o que vê no rosto de quem está a seu lado.

É necessário alfabetizar o motorista carioca. Ensiná-lo a ler com os olhos e escrever com a direção, para concluir que fazemos parte de um mesmo texto, uma mesma história que nós mesmos estamos escrevendo com as nossas pernas, com os nossos passos e os caminhos que conseguimos traçar sem que o destino ou um motorista ignorante nos atropеле.

(Miguel Paiva, O Globo, 27 de junho de 1997, com adaptações)

01. Observa-se o uso figurado da linguagem na expressão:

- A) "Alfabetizar o trânsito" (*título*)
- B) "condenados a 15 anos de prisão" (*l. 2*)
- C) "roubaram placas de sinalização" (*l. 3*)
- D) "inúmeros acidentes" (*l. 5*)
- E) "A falta de leitura" (*l. 10*)

02. De acordo com o contexto, direito "de ir e vir" (*l. 28*) pode ser traduzido por liberdade de:

- A) viajar para o exterior
- B) locomover-se
- C) decidir para onde viajar
- D) emigrar
- E) imigrar

03. "É necessário alfabetizar o trânsito" - a expressão em destaque tem emprego correto quanto à concordância na frase:

- A) É necessário milhões de anos-luz para se entender questão tão delicada.
- B) É necessário a intervenção das autoridades para resolver o problema.
- C) É necessário a presença de guardas para coibir os abusos.
- D) É necessário paciência para lidar com os maus motoristas.
- E) É necessário nossa participação na resolução dos problemas da cidade.

04. No texto, observa-se o recurso expressivo da ironia no emprego da expressão:

- A) "inúmeros acidentes" (*l. 5*)
- B) "vítimas fatais" (*l. 6*)
- C) "noção sofisticada" (*l. 15*)
- D) "comportamento coletivo" (*l. 15*)
- E) "passo definitivo" (*l. 19*)

05. A 1ª oração do 2º período estabelece, com o 1º período do texto, uma relação de:

- A) conformidade
- B) tempo
- C) causa
- D) condição
- E) conclusão

06. No segmento "Eles roubaram placas de sinalização das ruas da cidade." (*l. 3/4*), substituindo-se a expressão em destaque por um pronome, resulta:

- A) Eles roubaram-as das ruas da cidade.
- B) Eles a roubaram das ruas da cidade.
- C) Eles lhes roubaram das ruas da cidade.
- D) Eles roubaram-nas das ruas da cidade.
- E) Eles roubaram-lhes das ruas da cidade.

07. "O carioca não tem o hábito de ler as placas de sinalização" (*l. 7*) - essa frase pode ser alterada, substituindo-se a expressão sublinhada pelo verbo custar, segundo a norma culta, do seguinte modo:

- A) O carioca custa a ler as placas de sinalização.
- B) As placas de sinalização custam a serem lidas pelos cariocas.
- C) Ao carioca custam ler as placas de sinalização.
- D) Ler as placas de sinalização custam ao carioca.
- E) Custa ao carioca ler as placas de sinalização.

08. Constitui recurso de coesão o emprego da expressão sublinhada em:

- A) "Eles roubaram placas de sinalização..." (*l. 3*)
- B) "O carioca não tem o hábito..." (*l. 7*)
- C) "Muito menos de segui-las." (*l. 7/8*)
- D) "Como o brasileiro em geral..." (*l. 8*)
- E) "Não ler as placas..." (*l. 11*)

Leia os segmentos a seguir.

"Três jovens como eles." (*l. 6*) "Como o brasileiro em geral lê pouco..." (*l. 8*) "Ler os símbolos da cidade e entendê-los é como ler um livro..." (*l. 22/23*)

09. A conjunção sublinhada nos segmentos acima tem valor semântico, respectivamente, de:

- A) conformidade / comparação / causa
- B) causa / conformidade / comparação
- C) comparação / causa / conformidade
- D) causa / comparação / conformidade
- E) comparação / causa / comparação

10. "Mas a noção de sobrevivência do motorista..." (*l. 13/14*) - A conjunção em destaque poderia ser corretamente substituída, sem prejuízo semântico, por:

- A) Portanto
- B) Logo
- C) Embora
- D) Conquanto
- E) Entretanto

LEGISLAÇÃO DE TRÂNSITO

11. O artigo 61 do CTB determina que, em uma rodovia onde não exista sinalização regulamentadora, a velocidade máxima permitida para ônibus e micro-ônibus é de:

- A) 110 km/h
- B) 100 km/h
- C) 90 km/h
- D) 80 km/h
- E) 70 km/h

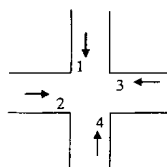
12. Considere os procedimentos listados abaixo.

- I- Acender os faróis do veículo, utilizando luz baixa.
- II- Manter acesas apenas as luzes de posição.
- III- Alternar luz baixa e luz alta, de forma intermitente e por curto período de tempo.
- IV- Acender os faróis do veículo, utilizando luz alta, exceto ao cruzar com outro veículo ou ao segui-lo.
- V- Manter aceso o pisca-alerta.

De acordo com o artigo 40 do CTB, ao passar durante o dia em um túnel provido de iluminação pública, o condutor deve adotar:

- A) o procedimento I
- B) os procedimentos III e V, simultaneamente
- C) o procedimento IV
- D) o procedimento II
- E) os procedimentos I e V, simultaneamente

13. Analise o esquema abaixo, onde estão representadas duas vias de mesma categoria, em cujo cruzamento não há sinalização semafórica, e quatro veículos que se deslocam de acordo com a indicação das setas.



De acordo com o artigo 29 do CTB, em relação à preferência de passagem dos veículos, é correto afirmar que:

- A) 2 tem preferência sobre 4, e 3 tem preferência sobre 4
- B) 4 tem preferência sobre 2, e 1 tem preferência sobre 2
- C) 3 tem preferência sobre 1, e 4 tem preferência sobre 2
- D) 1 tem preferência sobre 3, e 3 tem preferência sobre 4
- E) 4 tem preferência sobre 3, e 2 tem preferência sobre 1

14. Considere as situações descritas abaixo.

- 1. em trechos em curvas
- 2. em declives longos
- 3. em passagens de nível
- 4. próximo a escolas e hospitais

O artigo 32 do CTB determina que, em vias com duplo sentido de direção e pista única, o condutor não poderá ultrapassar veículos, dentre outras, nas situações:

- A) 2 e 4
- B) 1 e 3
- C) 2, 3 e 4
- D) 1 e 4
- E) 1, 2 e 3

15. A ocorrência de acidentes envolvendo ciclistas vem aumentando de forma preocupante, seja por falta de medidas de proteção mais adequadas, seja por desrespeito às normas de circulação e conduta. O artigo 58 do CTB determina que, em vias urbanas e nas rurais de pista dupla, na ausência de ciclovia, ciclofaixa, ou acostamento, a circulação de bicicletas nos bordos da pista de rolamento deve ocorrer:

- A) no sentido contrário ao de circulação regulamentado para a via, com preferência sobre os veículos automotores
- B) no mesmo sentido de circulação regulamentado para a via, sem preferência sobre os veículos automotores
- C) em qualquer dos sentidos de circulação da via, sempre com preferência sobre os veículos automotores
- D) no mesmo sentido de circulação regulamentado para a via, com preferência sobre os veículos automotores
- E) no sentido contrário ao de circulação regulamentado para a via, sem preferência sobre os veículos automotores

16. Dentre os sinais mostrados abaixo, aquele que passa ao condutor a mensagem de "Trânsito de Pedestres" é:

- A)
- B)
- C)
- D)
- E)

17. Considere o sinal de regulamentação mostrado abaixo.



O significado desse sinal é:

- A) sentido de circulação da via/pista
- B) mão única
- C) siga em frente
- D) fim de pista dupla
- E) passagem obrigatória

18. Como mostra o Anexo II do CTB, as Inscrições no Pavimento são utilizadas para melhorar a percepção do condutor quanto às condições de operação da via, permitindo-lhe tomar a decisão adequada, no tempo apropriado, para as situações que se apresentarem. Observe, abaixo, um exemplo de Seta Direcional usada como inscrição no pavimento de vias.

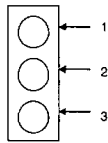


Essa inscrição chama a atenção do condutor para:

- A) entroncamento com rotatória à direita
- B) curva acentuada à direita
- C) desvio obrigatório à direita
- D) pista sinuosa à direita
- E) retorno à direita

ASSISTENTE TÉCNICO DE TRÂNSITO

19. Observe, abaixo, o esquema de um dos tipos de sinalização semafórica para controle do fluxo de veículos.



As cores das indicações luminosas representadas pelos números 1, 2 e 3 são, respectivamente:

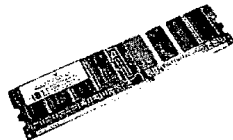
- A) vermelho, amarelo e verde
- B) verde, amarelo e vermelho
- C) vermelho, verde e amarelo
- D) verde, vermelho e amarelo
- E) amarelo, verde e vermelho

20. Dentre as infrações listadas abaixo, aquela cuja multa pode ser aplicada e arrecadada tanto pelo Município como pelo Estado é:

- A) Estacionar o veículo nas esquinas e a menos de cinco metros do bordo do alinhamento da via transversal.
- B) Deixar o condutor envolvido em acidente com vítima de preservar o local, de forma a facilitar os trabalhos da polícia e da perícia.
- C) Ter seu veículo imobilizado na via por falta de combustível.
- D) Deixar o condutor de prestar socorro à vítima de acidente de trânsito quando solicitado pela autoridade e seus agentes.
- E) Utilizar-se de veículo para, em via pública, demonstrar ou exibir manobra perigosa, arrancada brusca, derrapagem ou frenagem com deslizamento ou arrastamento de pneus.

NOÇÕES DE INFORMÁTICA

21. A figura abaixo representa uma memória DDR2 utilizada nos microcomputadores atuais, que tem a importante função de realizar o armazenamento das instruções de softwares e programas submetidos à execução, além dos dados manipulados por eles.



As memórias DDR2 são enquadradas na categoria de hardware e possuem capacidades de armazenamento típicas, indicadas na alternativa:

- A) ROM / de 1 GB a 2 GB
- B) RAM / de 1 GB a 2 GB
- C) CACHE / de 1 MB a 2 MB
- D) RAM / de 80 GB a 500 GB
- E) ROM / de 80 M

22. O Windows XP disponibiliza a opção Pesquisar, que possibilita buscar arquivos no computador pelo nome ou extensão, ou fazer uma varredura em todos os arquivos de imagem, música e vídeo que existem na máquina. Utilizando essa opção, considere duas situações em que se deseja buscar todos os arquivos:

- I- Com extensão PDF.
- II- Comecem com a letra D e tenham qualquer extensão.

Nessas duas situações, devem-se digitar os comandos de pesquisa indicados, respectivamente, em:

- A) *.PDF e D%.%
- B) &.PDF e D&.&
- C) \$.PDF e D\$. \$
- D) ?.PDF e D??.?
- E) *.PDF e D*.*

23. Enquanto os sistemas *Windows* disponibilizam a interface gráfica conhecida como *GUI* por meio do *Windows Explorer*, o *Linux* possibilita a utilização de outras, que funcionam de forma semelhante. Com esse foco, similares ao *Windows Explorer*, são interfaces gráficas para *Linux*:

- A) GNOME e FIREFOX
- B) SAFARI e MOZZILA
- C) FIREFOX e SAFARI
- D) KDE e GNOME
- E) MOZILLA e KDE

24. No *Word 2007 BR*, a execução do atalho de teclado *Ctrl + E* e da tecla de função *F7* possuem, respectivamente, os seguintes significados:

- A) recortar e inserir tabela
- B) recortar e visualizar texto a ser impresso
- C) recortar e verificar ortografia e gramática
- D) centralizar e visualizar texto a ser impresso
- E) centralizar e verificar ortografia e gramática

25. Um usuário do *Excel 2007 BR* criou a planilha abaixo.

DETRAN - RIO DE JANEIRO						
MATRÍCULA	NOME	PRODUÇÃO 2009			MÁXIMO	MÉDIA
		AGO	SET	OUT		
D204987	CÉLIO	181	203	202	203	195,3
D325638	DÉBORA	149	190	209	209	182,7
D874209	JUSSARA	189	187	161	189	179,0

Nessa elaboração,

- I- Inseriu na célula **F4** uma função que determinou a maior produção dentre os três meses indicados, referente ao funcionário **CÉLIO**.
- II- Na célula **G5**, inseriu uma função para determinar a média aritmética dentre os três meses indicados, referente à funcionária **DÉBORA**, com arredondamento para uma casa decimal.
- III- As fórmulas inseridas nas células **F5**, **F6**, **G4** e **G6** foram determinadas por meio dos comandos copiar e colar a partir de **F4** e **G5**.

Nessas condições, as funções inseridas às células **F5** e **G6** são, respectivamente:

- A) =MÁXIMO(C5;E5) e =ARRED(MÉDIA(C6;E6);1)
- B) =MÁXIMO(C5;E5;1) e =ARRED(MÉDIA(C6;E6))
- C) =MÁXIMO(C5;E5) e =ARRED(MÉDIA(C6;E6);1)
- D) =MAIOR(C5;E5) e =ARRED(MÉDIA(C6;E6);1)
- E) =MAIOR(C5;E5) e =ARRED(MÉDIA(C6;E6);1)

26. A figura abaixo mostra a barra de menu do *Powerpoint 2007 BR*, com destaque para a opção *Apresentação de Slides*.



Para escolher um determinado tema para a apresentação que está sendo elaborada, deve-se atuar na janela




que é mostrada na tela, quando se pressiona, por meio do apontador do mouse, a seguinte opção na barra de menu:






- A) Design
- B) Exibição
- C) Animações
- D) Inserir
- E) Início

27. Quando um usuário abre um documento para iniciar um trabalho de digitação no *Writer* do pacote *BrOffice.org 3.0*, no que diz respeito ao estilo e *layout* da página, o software oferece duas opções à **orientação** do documento, que são:


- A) A4 e Carta
- B) impressão e web
- C) retrato e paisagem
- D) normal e rascunho
- E) horizontal e vertical

28. Numa planilha montada no *Calc* do pacote *BrOffice.org 3.0*, um funcionário do DETRAN digitou os números 2, 3 e 4 nas células A2, B2 e C2. A inclusão da expressão =SOMA(A2:C2) em D2

foi realizada a partir do acionamento de . Essa mesma ação poderia ser executada por acionamento direto, por meio do ponteiro do mouse, no seguinte símbolo:

- A) 
- B) 
- C) 
- D) 
- E) 


29. A figura abaixo exemplifica o uso do *browser Internet Explorer* e mostra a página inicial do site do **DETRAN RJ**, com destaque para uma das barras existentes no software.



A barra indicada por 1 é denominada:

- A) status
- B) segurança
- C) acesso rápido
- D) progresso de carga
- E) compatibilidade web



30. A figura  ilustra um dispositivo de proteção, utilizado nas configurações dos microcomputadores, cuja função principal é manter a voltagem de alimentação fornecida pelas concessionárias de energia em níveis aceitáveis, próximos ao valor nominal de operação, garantindo a segurança do microcomputador e evitando danos ao equipamento de informática. Esse dispositivo de proteção é conhecido como:

- A) Filtro de linha
- B) Filtro de transientes
- C) Estabilizador de tensão
- D) Estabilizador de corrente
- E) Transformador de potência

CONHECIMENTOS ESPECÍFICOS

31. Ao Conselho Nacional de Trânsito - CONTRAN, coordenador do Sistema Nacional de Trânsito e órgão máximo normativo e consultivo, compete:

- A) realizar, fiscalizar e controlar o processo de formação, aperfeiçoamento, reciclagem e suspensão de condutores
- B) estabelecer, em conjunto com as Polícias Militares, as diretrizes para o policiamento ostensivo de trânsito
- C) estabelecer as normas regulamentares referidas no Código de Trânsito Brasileiro e as diretrizes da Política Nacional de Trânsito
- D) comunicar ao órgão executivo de trânsito da União a suspensão e a cassação do direito de dirigir e o recolhimento da Carteira Nacional de Habilitação
- E) fiscalizar o nível de emissão de poluentes e ruído produzidos pelos veículos automotores ou pela sua carga

32. No Certificado de Registro e Licenciamento de Veículos (CRLV) deverá ser impresso o texto:

- A) "DOCUMENTO VÁLIDO SOMENTE APÓS LIQUIDAÇÃO INTEGRAL DO DPVAT"
- B) "DOCUMENTO EXPEDIDO E RENOVADO BIANUALMENTE"
- C) "DOCUMENTO VÁLIDO COM QUITAÇÃO DE OBRIGAÇÃO TRIBUTÁRIA"
- D) "DOCUMENTO DE PORTE OBRIGATÓRIO NÃO VÁLIDO PARA TRANSFERÊNCIA"
- E) "DOCUMENTO COM PLASTIFICAÇÃO PROIBIDA"

33. Uma vez efetuada a baixa de registro, o veículo:

- A) poderá voltar à circulação se for recuperado
- B) poderá voltar à circulação se for remontado
- C) poderá voltar à circulação pela seguradora
- D) poderá voltar à circulação após ser vendido
- E) sob nenhuma hipótese poderá voltar à circulação

34. O prazo limite para renovação do Licenciamento Anual, a ser estabelecido pelos órgãos executivos de trânsito dos Estados e do Distrito Federal, de veículos que tenham o algarismo 9 (nove) como final da placa de identificação é até:

- A) agosto
- B) setembro
- C) outubro
- D) novembro
- E) dezembro

35. O código numérico de segurança do Certificado de Registro de Veículo (CRV) é composto de:

- A) 12 (doze) dígitos
- B) 11 (onze) dígitos
- C) 10 (dez) dígitos
- D) 9 (nove) dígitos
- E) 8 (oito) dígitos

36. As cores de fundo das placas de identificação de veículos das categorias Aluguel, Oficial e Missão Diplomática, são, respectivamente:

- A) branco, vermelho e azul
- B) azul, vermelho e branco
- C) vermelho, branco e azul
- D) azul, branco e vermelho
- E) vermelho, azul e branco

37. Para que o antigo proprietário comunique a venda de veículo de forma documental, deverá apresentar cópia autenticada:

- A) da Nota Fiscal de Venda
- B) da Carteira Nacional de Habilitação (CNH)
- C) do comprovante de quitação de multas pagas
- D) do Certificado de Registro e Licenciamento de Veículos (CRLV)
- E) da Autorização para Transferência de Propriedade de Veículo (ATPV)

ASSISTENTE TÉCNICO DE TRÂNSITO

38. As imagens das digitais coletadas (decadactilar) nos processos de habilitação deverão ser encaminhadas pelos órgãos executivos de trânsito dos Estados e do Distrito Federal ao DENATRAN.

Visando a garantir a individualidade do candidato ou condutor com a sua respectiva CNH, as imagens das digitais recebidas pelo DENATRAN serão enviadas:

- A) ao Departamento de Estradas de Rodagem
- B) ao Departamento de Polícia Federal
- C) à Polícia Rodoviária Federal
- D) ao Departamento Nacional de Infraestrutura de Transportes
- E) ao Ministério dos Transportes

39. Ficam dispensados da realização dos exames de aptidão física e mental e/ou da avaliação psicológica para a obtenção da Autorização para Conduzir Ciclomotor (ACC), da Carteira Nacional de Habilitação (CNH), renovação, adição ou mudança de categoria, os candidatos:

- A) policiais militares que apresentarem o cartão de saúde expedido pelo Comando da Polícia Militar
- B) pilotos de Fórmula 1 que apresentarem o cartão de saúde expedido pela Federação Internacional de Automobilismo
- C) tripulantes de aeronaves que apresentarem o cartão de saúde expedido pelas Forças Armadas ou pelo Departamento de Aeronáutica Civil
- D) comandantes de navios que apresentarem o cartão de saúde expedido pelo Ministério da Marinha
- E) médicos que apresentarem o cartão de saúde expedido pelo Ministério da Saúde

40. No exame de aptidão física e mental, o candidato será considerado Inapto Temporário pelo médico perito examinador de trânsito quando:

- A) o motivo da reprovação para a condução de veículo automotor na categoria pretendida for irreversível
- B) não houver contraindicação para a condução de veículo automotor na categoria pretendida
- C) houver contraindicação para a condução de veículo automotor na categoria pretendida, sem possibilidade de tratamento ou correção
- D) o motivo da reprovação para a condução de veículo automotor na categoria pretendida for passível de tratamento ou correção
- E) houver necessidade de registro na CNH de qualquer restrição referente ao condutor ou adaptação veicular

41. O candidato à obtenção da Autorização para Conduzir Ciclomotor (ACC) e da Carteira Nacional de Habilitação (CNH) solicitará ao órgão ou entidade executiva de trânsito do Estado ou do Distrito Federal, do seu domicílio ou residência, ou na sede estadual ou distrital do próprio órgão ou entidade, a abertura do processo de habilitação, para o qual deverá preencher os seguintes requisitos:

- A) ser penalmente imputável; saber ler e escrever; possuir documento de identidade; possuir Título de Eleitor
- B) saber ler e escrever; possuir Título de Eleitor; possuir documento de identidade; possuir Cadastro de Pessoa Física (CPF)
- C) ser penalmente imputável; saber ler e escrever; possuir Título de Eleitor; possuir Cadastro de Pessoa Física (CPF)
- D) ser penalmente imputável; saber ler e escrever; possuir documento de identidade; possuir Cadastro de Pessoa Física (CPF)
- E) ser penalmente imputável; saber ler e escrever; possuir documento de identidade; possuir Carteira de Trabalho

42. Dentro do campo Observações da Carteira Nacional de Habilitação, deverão constar:

- A) as restrições médicas, a informação "exerce atividade remunerada" e os cursos especializados que forneçam certificado
- B) as restrições médicas, a informação "exerce atividade remunerada" e a marca do veículo em que exerce tal atividade
- C) a informação "exerce atividade remunerada", a empresa e a marca do veículo em que exerce tal atividade
- D) as restrições médicas, a informação "condutor inapto" e os cursos especializados que forneçam certificado
- E) as restrições médicas, a informação "exerce atividade remunerada" e a empresa em que exerce tal atividade

43. Após a verificação da regularidade do Auto de Infração, a autoridade de trânsito expedirá a Notificação da Autuação, na qual deverão constar, no mínimo, os dados definidos no art. 280 do Código de Trânsito Brasileiro (CTB) e em regulamentação específica. Três dados, citados textualmente no art. 280 do CTB, são:

- A) tipificação da infração; local do cometimento da infração; caracteres da placa de identificação do veículo
- B) tipificação da infração; data do cometimento da infração; UF onde o veículo está registrado
- C) data do cometimento da infração; hora do cometimento da infração; cor do veículo
- D) caracteres da placa de identificação do veículo; modelo do veículo; cor do veículo
- E) tipificação da infração; marca do veículo; modelo do veículo

44. Constitui infração gravíssima:

- A) fazer ou deixar que se faça reparo em veículo, em rodovia e via de trânsito rápido
- B) deixar o condutor envolvido em acidente sem vítima, de remover o veículo do local
- C) ter seu veículo imobilizado na via por falta de combustível
- D) deixar o passageiro de usar o cinto segurança
- E) dirigir veículo sem possuir Carteira Nacional de Habilitação ou Permissão para Dirigir

45. Não havendo a identificação do condutor infrator até o término do prazo fixado na Notificação da Autuação, o proprietário do veículo:

- A) pessoa física, será notificada com a aplicação de multa, nos termos do § 8º do art. 257 do CTB
- B) terá, até a data de vencimento da multa, prazo para identificar o condutor infrator
- C) perderá o direito ao desconto de 20% no valor da multa
- D) será considerado responsável pela infração cometida
- E) terá a pontuação em sua CNH agravada em 100%

46. Excetuando-se as infrações resultantes de excesso de peso que obedecem ao determinado no art. 257 e parágrafos do Código de Trânsito Brasileiro, a responsabilidade pelo pagamento da penalidade de multa é:

- A) do proprietário do veículo, exceto se indicar o condutor infrator
- B) sempre do proprietário do veículo
- C) do condutor do veículo que cometeu a infração
- D) 50% paga pelo proprietário do veículo e 50% paga pelo condutor do veículo
- E) 20% paga pelo proprietário do veículo e 80% paga pelo condutor do veículo

47. Para fins de imposição da penalidade de suspensão do direito de dirigir, deverá ser considerada para estabelecer a contagem da pontuação a data:

- A) do recebimento da notificação de penalidade de multa
- B) da postagem da notificação de penalidade de multa
- C) do recebimento da notificação de autuação da infração
- D) da postagem da notificação de autuação da infração
- E) do cometimento da infração

48. Para estabelecer o período de suspensão do direito de dirigir, a autoridade de trânsito levará em conta:

- A) a gravidade da infração, a marca e o ano de fabricação do veículo
- B) o ano de fabricação do veículo, a gravidade da infração e os antecedentes do infrator
- C) a marca do veículo, as circunstâncias em que foi cometida a infração e os antecedentes do infrator
- D) a gravidade da infração, as circunstâncias em que foi cometida a infração e os antecedentes do infrator
- E) as circunstâncias em que foi cometida a infração, a marca e o ano de fabricação do veículo

ASSISTENTE TÉCNICO DE TRÂNSITO

49. A defesa de autuação e recurso, em 1ª e 2ª instâncias, contra a imposição de penalidade de multa de trânsito, não será conhecida quando:

- A) for apresentada fora do prazo legal ou não for comprovada a legitimidade
- B) for apresentada fora do prazo legal ou não for comprovada a residência do recorrente
- C) for apresentada fora do prazo legal ou faltar o Cadastro de Pessoa Física (CPF)
- D) não for comprovada a legitimidade ou faltar o Cadastro de Pessoa Física (CPF)
- E) faltar o Cadastro de Pessoa Física (CPF) ou não for comprovada a residência do recorrente

50. O prazo para a prescrição da pretensão executória das penalidades de suspensão do direito de dirigir e cassação da Carteira Nacional de Habilitação, contado a partir da data da notificação para a entrega da Carteira Nacional de Habilitação, é de:

- A) 4 anos
- B) 5 anos
- C) 6 anos
- D) 7 anos
- E) 8 anos

Considere o Manual de Redação Oficial do Poder Executivo do Estado do Rio de Janeiro e responda às questões de nº 51 a 55.

51. Em redação oficial, para fazer solicitações, convites, externar agradecimentos ou transmitir informações utiliza-se o recurso da Carta. Na Administração Pública, quanto à forma de comunicação e à pessoa a quem se dirige, a Carta é usada para:

- A) comunicação externa, dirigida à pessoa jurídica da Administração Pública
- B) comunicação interna, dirigida a pessoa jurídica estranha à Administração Pública
- C) comunicação externa, dirigida à pessoa (física ou jurídica) estranha à Administração Pública
- D) comunicação interna, dirigida à pessoa física estranha à Administração Pública
- E) comunicação externa e interna, dirigida à pessoa (física ou jurídica) da Administração Pública

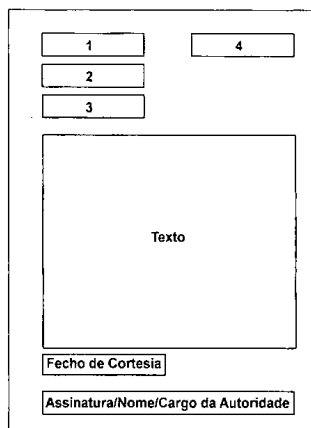
52. Ao endereçar uma correspondência para o Estado do Maranhão, a sigla correta a ser utilizada é:

- A) MM
- B) MH
- C) MR
- D) MO
- E) MA

53. Ao final de um ano de trabalho, foi solicitado a um funcionário que elaborasse um Relatório do trabalho desenvolvido. Ao elaborar o texto desse documento, é obrigação do funcionário saber que ele deve apresentar:

- A) texto paragrafado, analisando a matéria em questão e formulando um parecer sobre ela
- B) texto paragrafado, contendo o propósito do Relatório, exposição minuciosa dos fatos, o resultado ou síntese e recomendação de providências cabíveis
- C) exposição do conteúdo, constituído de tantos artigos quantos forem necessários, todos numerados
- D) exposição do pedido, de forma clara e objetiva, citando o fundamento legal que embasa o Relatório
- E) texto resumido, contendo a exposição dos assuntos e o objetivo do Relatório

54. Observe atentamente o esquema de uma Circular apresentada abaixo.



O local e a data; o assunto; o destinatário; o título, a sigla do órgão que o expede e o número do documento estão indicados, respectivamente, pelos números:

- A) 3 - 4 - 2 - 1
- B) 2 - 3 - 4 - 1
- C) 3 - 1 - 2 - 4
- D) 4 - 2 - 1 - 3
- E) 4 - 3 - 2 - 1

55. Em alguns documentos oficiais aparece a palavra **RESOLVE**, indicando uma ordem de execução. Dentre os documentos que apresentam essa ordem de execução, podem-se citar:

- A) Instrução Normativa, Projeto de Lei e Portaria
- B) Ata, Ato de Investidura, Decreto
- C) Deliberação, Despacho, Requerimento
- D) Atestado, Ato de Investidura, Certidão
- E) Circular, Atestado e Ofício

56. Leia, abaixo, uma relação de nomes de empresas que deverão ser arquivadas pelo método alfabético simples.

1. A Bonita Tecidos
2. BMW
3. Banco do Brasil
4. O Boticário
5. Bráulio Pedrosa Advogados

A sequência correta do arquivamento corresponde aos nomes indicados por:

- A) 1 - 2 - 4 - 5 - 3
- B) 1 - 4 - 5 - 3 - 2
- C) 3 - 2 - 1 - 4 - 5
- D) 1 - 2 - 3 - 5 - 4
- E) 1 - 3 - 2 - 4 - 5

As questões de nº 57 e 58 têm por base o Decreto nº 2479, que aprova o Regulamento do Estatuto dos Funcionários Públicos Civis do Poder Executivo de Estado do Rio de Janeiro.

57. De acordo com o Artigo 22, § 2º, não poderão ocupar cargo em comissão os que tenham sido aposentados por invalidez para o Serviço Público, desde que subsistentes os motivos que determinaram a inatividade, e também aqueles que:

- A) tenham sido exonerados de outros cargos em comissão
- B) sejam inativos da Previdência Privada
- C) sejam maiores de 70 (setenta) anos de idade
- D) sejam pessoas estranhas ao Serviço Público
- E) sejam servidores contratados que não queiram abrir mão de seus contratos em caráter definitivo

ASSISTENTE TÉCNICO DE TRÂNSITO

58. De acordo com o Artigo 129, após cada quinquênio de efetivo exercício prestado ao Estado ou a suas autarquias, ao funcionário que a requerer, conceder-se-á a licença-prêmio de 3 (três) meses, com todos os direitos e vantagens de seu cargo efetivo.

O § 1º, porém, estabelece que não será concedida a licença-prêmio correspondente ao quinquênio em que o funcionário/funcionária houver:

- A) faltado ao serviço, sem abono da falta
- B) gozado licença para tratamento de saúde por prazo maior que 60 dias
- C) gozado de licença por motivo de doença em pessoa da família por prazo maior que 30 dias
- D) gozado de licença por motivo de afastamento do cônjuge por prazo maior que 60 dias
- E) gozado de licença para repouso a gestante, prorrogada, no caso de aleitamento materno

As questões de nº 59 e 60 têm por base a Lei nº 4781, que dispõe sobre o Plano de Cargos e Vencimentos do Departamento de Trânsito do Estado do Rio de Janeiro – DETRAN-RJ, e dá outras providências.

59. De acordo com o Artigo 51, § 1º e 2º, o servidor do Quadro de Pessoal do DETRAN-RJ, cedido a outros órgãos, não fará jus à percepção das vantagens advindas pelo efetivo exercício na Autarquia, **excetuando-se** o servidor que:

- A) tenha cumprido o estágio probatório com bom rendimento
- B) tenha mais que 10 (dez) anos de efetivo exercício no Quadro Permanente da Autarquia
- C) esteja cedido ex-officio para exercer atividade considerada "de relevante serviço"
- D) tenha sido cedido para ocupar qualquer cargo no Governo Federal
- E) esteja cedido para exercer atividades em órgãos ou programas diretamente ligados ao Sistema Nacional de Trânsito

60. De acordo com o Artigo 48, o exercício das funções relativas às atividades de licenciamento de veículos e de exames para a habilitação de condutores, em suas partes teórica e prática, será objeto de regulamentação específica, por ato próprio do Presidente do DETRAN-RJ.

Essa regulamentação deverá levar em conta, quanto ao curso de formação para essas atividades, que ele deverá ter, no mínimo, a duração de:

- A) 44 horas
- B) 90 horas
- C) 120 horas
- D) 134 horas
- E) 144 horas